

Manuel utilisé : Belin 2009

I Habiter une campagne européenne

On commence par localiser l'étude de cas. **Saint-Nectaire est un village français qui se trouve dans la région Auvergne, dans le département du Puy-de-Dôme, au centre de la France.**

A – Quelles sont les particularités de la campagne de Saint-Nectaire ?

*Les élèves répondent aux questions. Étude des documents 2 p.248 (descriptif de la production du fromage saint-nectaire), 1 (Saint-Nectaire et Junhac dans leur environnement régional) et 2 (Tableau comparant l'évolution de Saint-Nectaire et Junhac) p.250

Étude des documents 2 p.248, 1 et 2 p.250

- 1/ Combien y a-t-il d'habitants à Saint-Nectaire ? La population a-t-elle augmenté ou diminué depuis 30 ans ?
- 2/ Saint-Nectaire est-elle une commune agricole ? Justifiez votre réponse.
- 3/ Quelle grande ville se trouve à proximité de Saint-Nectaire ?
- 4/ Quelle production agricole est surtout produite à Saint-Nectaire ?
- 5/ Quels services peut-on trouver à Saint-Nectaire ?

1/ *Combien y a-t-il d'habitants à Saint-Nectaire ? La population a-t-elle augmenté ou diminué depuis 30 ans ?* Il y a 750 habitants à Saint-Nectaire. La population a légèrement augmenté depuis 30 ans.

2/ *Saint-Nectaire est-elle une commune agricole ? Justifiez votre réponse.* Saint-Nectaire n'est pas une commune agricole car seulement 7% de sa population travaillent dans l'agriculture.

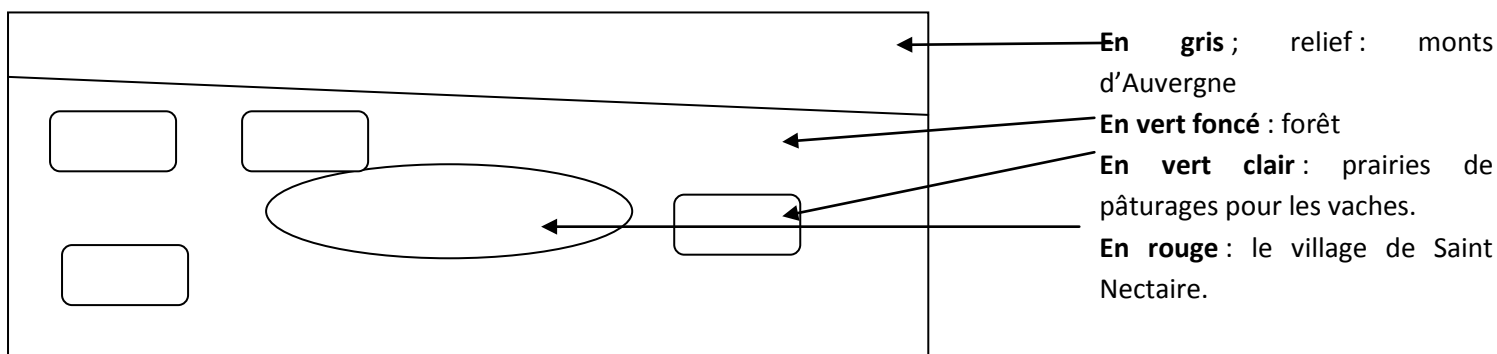
3/ *Quelle grande ville se trouve à proximité de Saint-Nectaire ?* Clermont-Ferrand se trouve 45 minutes de Saint-Nectaire.

4/ *Quelle production agricole est surtout produite à Saint-Nectaire ?* A Saint-Nectaire, on produit surtout un fromage AOC de qualité, le saint-nectaire. Un produit AOC est fabriqué sur un territoire bien précis, avec des techniques précises.

5/ *Quels services peut-on trouver à Saint-Nectaire ?* A Saint-Nectaire, on peut trouver une boulangerie, une poste, une école et un médecin.

***A retenir :** Saint-Nectaire est une commune rurale car elle a moins de 2000 habitants. Mais ce n'est pas une commune agricole car ses habitants ne travaillent pas dans l'agriculture. Ceux qui y travaillent sont spécialisés dans une production : le fromage (et donc l'élevage).

*Réalisation d'un croquis paysager, à partir de la photo p.249. Titre : croquis de paysage de Saint-Nectaire.



En France, bon nombre de communes rurales (ayant moins de 2000 habitants) ne sont plus des communes agricoles. Leur population travaille dans les services et une minorité travaille dans l'agriculture. Souvent, une production agricole domine : la viticulture, l'élevage...

B – Comment expliquer les transformations des campagnes ?

*Qui sont les nouveaux habitants de Saint-Nectaire ? Lecture d'un texte (document 1 poly) sur la périurbanisation, non pas à Saint-Nectaire mais vers Toulouse.

Document 1 : de nouveaux ruraux

« Plus de 15 000 personnes supplémentaires posent chaque année leurs valises en Haute-Garonne ! Christelle, Mohammed et leurs quatre enfants ont quitté la banlieue nord de Paris, il y a trois ans, pour venir vivre à la campagne dans le village de Péchabou (1 400 habitants). Sur la route de Toulouse à Carcassonne, les lotissements se développent au milieu des cultures. C'est exactement ce que voulait Christelle : une maison confortable entourée d'un terrain, avec une chambre pour chaque enfant et un garage. Le tout à une distance raisonnable du lieu de travail. Mohammed est médecin : "Le matin, je mets dix minutes pour aller à mon cabinet en voiture. A Paris, il me fallait une heure et demie ! Et je rentre déjeuner à la maison tous les jours. »

D'après L'Express, 18 juin 2008

- 1/ Où se sont installés Christelle et Mohammed ? Où vivaient-ils auparavant ?
2/ Pourquoi se sont-ils installés à la campagne ?

1/ Où se sont installés Christelle et Mohammed ? Où vivaient-ils auparavant ? Christelle et Mohammed se sont installés à Péchabou, un village de 1 400 habitants. Auparavant, ils vivaient en banlieue parisienne.

2/ Pourquoi se sont-ils installés à la campagne ? Ils se sont installés à la campagne pour avoir une grande maison, un terrain, proche de leur lieu de travail.

*A l'oral : pourquoi n'ont-ils pas acheté une grande maison en banlieue parisienne ? Car les prix sont beaucoup plus hauts en ville. De plus, le cadre de vie est plus agréable à la campagne (pollution, sécurité). On appelle ce phénomène la périurbanisation : les gens partent des villes pour s'installer à la campagne. Mais ils ne choisissent pas des campagnes perdues : ils prennent des villages proches des villes pour aller travailler en ville.

Problème : la pollution par les déplacements.

*Ainsi, à Saint-Nectaire, la population a augmenté par la périurbanisation. Que s'est-il passé pour Junhac (doc.2 p.250) ? Junhac a perdu des habitants. Elle est trop loin des grandes villes.

*Quelles sont les nouvelles activités dans les campagnes ? Lecture du document 5 p.251 (Les activités variés à Saint-Nectaire d'après une brochure publicitaire). A partir de celui-ci et du document 4, on remplit le tableau modifié proposé en activité

Activités culturelles et touristiques	Activités sportives	Activités de détente
Visite de l'église romane Parc des dolmens Visite d'une cave d'affinage	Escalade, randonnées, circuits VTT, ski, luge, raquettes	Cure thermale

A retenir : les campagnes françaises ont diversifié leurs activités. Elles ne sont presque plus rurales mais développent par exemple le tourisme.

Les villages proches des grandes villes connaissent le phénomène de périurbanisation. De nouveaux habitants, venus des villes, s'installent dans ces villages tout en continuant à travailler en ville. Cela transforme les paysages par la construction de nouveaux habitats. Les campagnes françaises diversifient aussi leurs activités, en développant par exemple le tourisme. La périurbanisation crée cependant de la pollution, en raison des nombreux déplacements en voiture.

Périurbanisation : extension de la ville sur les campagnes environnantes.

C - Les évolutions du monde rural dans les pays riches

*La diversité des paysages. Présentation Powerpoint.

Diapo 1. La commune de Bussy-Saint-Georges.



Où se trouve cette ville ? Elle se trouve en Seine et Marne, au nord du département.

Quel type de logement y trouve t'on ? On trouve des lotissements. Un constructeur achète un terrain et y construit des maisons, souvent toutes les mêmes.

Pourquoi les gens s'y installent-ils ? Car les maisons y étaient moins chères que plus près de Paris (on est à 32km de Paris), que l'autoroute A4 et le RER A passent à côté. Il y avait 450 habitants à Bussy-Saint-Georges en 1962.

Diapo 2. Le vignoble de Saint-Emilion.



Où se trouve Saint-Emilion ? La commune se trouve près de Bordeaux, au Sud-Ouest de la France.

Que produit-on ici ? On produit de vin, de très haute qualité. Les terres de cette commune sont extrêmement chères. Le territoire s'est spécialisé et vend son vin dans le monde entier. C'est une campagne dynamique.

Diapo 3. Champs de tulipes aux Pays-Bas.



Où se trouvent les Pays-Bas ? Ils se trouvent au nord de la France.

Que cultive-t-on ici ? On cultive des fleurs, des tulipes. Les Pays-Bas sont les 1^{ers} producteurs mondiaux de fleurs. Ils les cultivent souvent en serre et les vendent au monde entier. C'est une culture spécialisée.

Diapo4. Grande plaine américaine.



Où a été prise la photo ? Elle a été prise au Kansas, aux États-Unis, c'est-à-dire dans les Grandes Plaines américaines.

Que signifie « irriguer » ? Cela signifie qu'on amène de l'eau.

Pourquoi les champs ont-ils cette forme particulière ? Car ce qui apparaît vert sont les parties irriguées, en jaune sont les parties non irriguées. On parle ici d'agro-business.

*Lecture du document 5 p.253 (L'agriculture de précision, Michel Goussot, *Les États-Unis dans la Nouvelle Économie Mondiale*). Les élèves répondent à la question 4 de l'activité.

D'après le texte, quel est l'outil indispensable du fermier ? Quelle est la destination de la production ? Comment appelle-t-on ce type d'agriculture ?

L'outil indispensable du fermier américain est l'ordinateur, puisqu'il suit sur Internet le cours des produits agricoles, il peut vendre aux enchères... Sa production est destinée à la vente aux firmes agroalimentaires (type Nestlé) qui vont transformer ses produits. Cela s'appelle l'agriculture commerciale intensive.

Les campagnes des pays riches sont diverses. Elles sont globalement peu peuplées même si les espaces périurbains gagent beaucoup de population. Lorsqu'elles sont agricoles, leur production est spécialisée (vigne, fleurs, céréales...), commerciale (vendue aux entreprises agroalimentaires) et intensive (leur rendement est élevée avec l'utilisation des engrais, des machines agricoles...).

II Habiter une campagne africaine

A Étude de cas : habiter une campagne au Mali

*Localisation du Mali à partir du planisphère de la fin du manuel. Le Mali est un pays d'Afrique de l'Ouest.

*Diapo 2 : photo d'un village au sud du Mali (le 1 est le village, le 2 est la piste, le 3 est le puits, le 4 est le champ permanent, le 5 est le champ sur brûlis, le 6 est la savane).



Distribution aux élèves du document 1 (poly).

Document 1 : l'organisation de l'espace rural

« D'abord, entourant le village, il y a une couronne de champs de 500 à 1 000 mètres de rayon qui, bénéficiant des déchets ménagers, du fumier du petit bétail, sont cultivés tous les ans. On y produit des légumes et surtout le mil, base de l'alimentation. Au-delà, tout autour, s'étend une zone de champs temporaires, beaucoup plus vaste de 5 à 6 kilomètres. Ces champs, qui trouent la savane, portent la première année de l'arachide, la seconde année du mil. Puis ils sont laissés en jachère pour de longues années. Enfin, plus loin encore, c'est le domaine de la savane, jamais cultivée. »

D'après René Lebaeu, *Les grands types de structures agraires dans le monde*, 2002

On essaye de décrypter l'image en ayant lu le document.

Au centre se trouve le village. *A quoi ressemblent les maisons ?* Ce sont des cases, donc des petites maisons individuelles souvent faites d'une seule pièce. Les murs sont en terre, le toit en chaume.

Où se trouvent les champs permanents ? Ils sont proches du village (numéro 4).

Où se trouvent les champs temporaires ? Ils sont loin du village (numéro 5). Le champ est noir car on parle ici d'agriculture sur brûlis ; les paysans brûlent la portion de savane pour y cultiver.

Pourquoi certains champs sont permanents et donc temporaires ? Les champs permanents sont ceux qui bénéficient d'engrais, donc d'enrichissement de la terre. S'il n'y a pas d'engrais, au bout de quelques années, la terre est épuisée.

Que cultive-t-on sur les champs temporaires ? On cultive de l'arachide la 1^{ère} année (les arachides sont beaucoup consommées en Afrique), du mil la seconde année (le mil est une céréale) et ensuite on laisse la terre se reposer. Il lui faut en général vingt ans pour se régénérer.

La savane (formation végétale composée d'herbes, de broussailles et de quelques arbres) est utilisée également dans l'agriculture ; elle sert de pâturage à l'élevage (bovins et moutons).

Enfin, il existe *quelques pistes* partant du village pour aller dans les villes alentours, que les paysans peuvent utiliser pour vendre leur récolte au marché.

*Réalisation du croquis de situation. On trace un rectangle de 10 cm sur 10 cm.

On fait un 1^{er} cercle au milieu : le village (colorié en rouge). On fait un second cercle autour : les champs permanents (colorié en vert foncé). On fait un 3^{ème} cercle : les champs temporaires (colorié en vert clair). Le reste est la savane (colorié en jaune). Enfin, on trace les pistes partant du village.

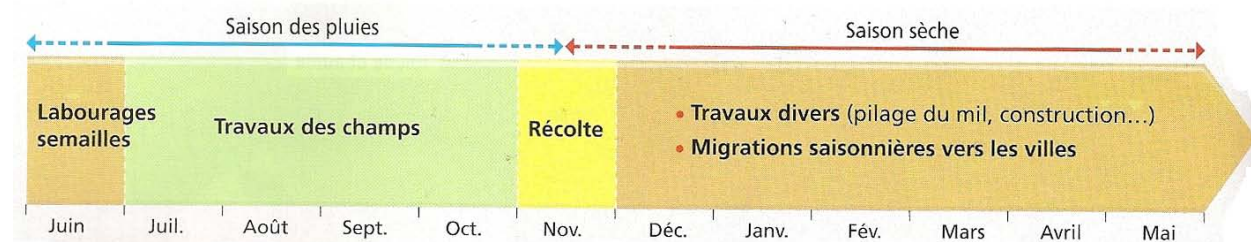
*Comment se caractérise l'agriculture des pays d'Afrique de l'Ouest ? Exercice n°1 p.262. Les élèves répondent aux questions (sauf la question 4). L'exercice se compose d'une photo de villageois tchadiens piochant un champ en cadence et d'un texte de Sylvie Brunel, *Les Tiers-Monde*, sur l'agriculture au Tchad.

1/ *Dans quel pays et dans quel continent se trouve le village dont il est question dans les documents ?* Le village se trouve au Tchad, en Afrique.

2/ *Quel est le but du travail effectué ? Qui pratique ce travail ? Quel est l'instrument utilisé ? Quels sont les résultats obtenus ?* Le but du travail est de planter le mil. Les paysans et les paysannes font ce travail. L'instrument utilisé est la houe (une sorte de pioche). Les résultats obtenus sont faibles, les rendements sont peu importants.

3/ *Quels sont les éléments montrant que cette forme d'agriculture est peu perfectionnée ?* Les éléments qui nous montrent que l'agriculture est peu perfectionnée est le fait que tout se fait à l'énergie humaine, les machines ne sont pas utilisées, les outils sont rudimentaires, il n'y a pas d'irrigation.

*Diapo 3 : le calendrier des travaux agricoles.

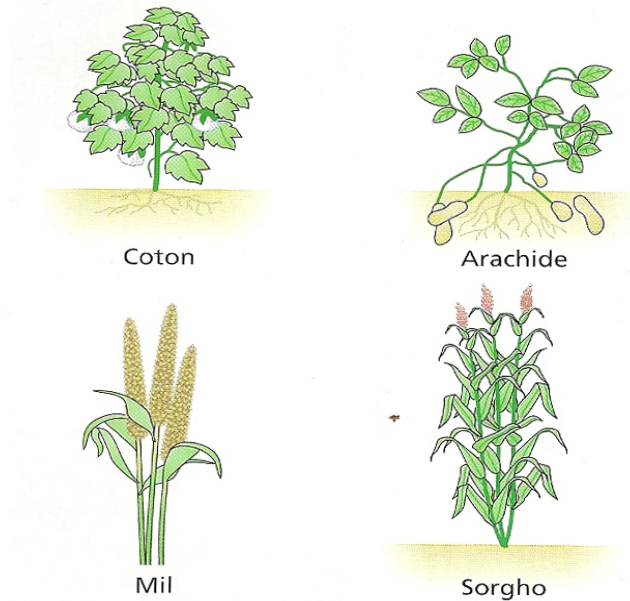


Pendant quelle saison ont lieu les travaux des champs ? Ils ont lieu durant la saison des pluies donc de juillet à octobre.

Combien y a-t-il de récoltes par an ? Seulement une (contre deux récoltes dans les régions du monde où il pleut tout le temps).

Que se passe-t-il durant la saison sèche ? Les hommes font d'autres travaux (construction), pilent le mil et certains partent en ville pour trouver un autre métier.

*Diapo 4 : les cultures du Mali.



Certaines de ces productions sont destinées à la consommation (sorgho, mil). D'autres sont exportées, c'est-à-dire vendues à l'étranger (arachide et surtout coton).

Que font les Maliens du coton et de l'arachide ? Ces plantes sont vendues à l'étranger ; d'abord sur des marchés ou à des commerçants locaux puis à l'étranger. On appelle cela des cultures commerciales.

Que font les Maliens du sorgho (céréale) et du mil ? Ils le consomment directement. On appelle cela des cultures vivrières.

Les paysans du Mali sont pauvres. Ils cultivent leurs terres au milieu de la savane (voir schéma). Ils pratiquent une agriculture traditionnelle qui a un faible rendement. La plupart des cultures sont vivrières mais les cultures commerciales se développent ce qui apporte un complément de revenu. Les campagnes maliennes ne sont pas éloignées de la ville : les paysans y vendent leur production au marché, des hommes y travaillent durant la saison sèche.

Agriculture commerciale : agriculture donc la production est destinée à la vente

Agriculture vivrière : agriculture dont la production est destinée à nourrir les paysans qui la produisent.

B Les campagnes des pays pauvres du monde

Étude du planisphère p.254 (les mondes ruraux)

Planisphère p.254

1/ Quels sont les endroits dans le monde où la population rurale est majoritaire ? D'après vos connaissances, est-ce que ce sont des espaces densément peuplés ?

2/ Quel type d'agriculture est pratiquée en Afrique, en Amazonie, à l'Est du Brésil ?

3/ Quel type d'agriculture est pratiquée en Asie du Sud et de l'Est ?

1/ Quels sont les endroits dans le monde où la population rurale est majoritaire ? D'après vos connaissances, est-ce que ce sont des espaces densément peuplés ? Les endroits du monde fortement ruraux sont l'Afrique, l'Inde, l'Asie du Sud-Est et la Chine. L'Asie du Sud et de l'Est est très densément peuplée, tandis que l'Afrique est peu peuplée.

2/ Quel type d'agriculture est pratiquée en Afrique, en Amazonie, à l'Est du Brésil ? L'agriculture vivrière est surtout pratiquée. Les rendements y sont faibles.

3/ Quel type d'agriculture est pratiquée en Asie du Sud et de l'Est ? La riziculture est surtout pratiquée. Les rendements y sont forts.

A retenir : les espaces ruraux du monde pauvre sont très divers : certains sont fortement peuplés, d'autres très peu peuplés. Ils sont en revanche globalement à l'écart des circuits commerciaux importants. Pour pouvoir cultiver toujours plus, les défrichements sont importants, en particulier au Brésil, dans la forêt équatoriale africaine et en Indonésie.

*Les ruraux vivent dans des villages souvent peu confortables, peu modernes. Certains choisissent de partir pour trouver une vie meilleure.

Lecture du document 1 p.258 (l'exode rural en Chine, Isabelle Mudry, *Le Monde*, 14 août 2008).

Pourquoi les paysans quittent-ils la campagne ? Car ils pensent que la vie est ville est meilleure, qu'ils gagneront plus d'argent...

Où travaillent-ils en ville ? Ils travaillent dans des chantiers ou dans des restaurants mais sont employés seulement à la journée ; cela est précaire.

Où vivent-ils ? Dans des dortoirs surpeuplés ou dans des bidonvilles.

Que font-ils de leur argent ? Ils le renvoient dans leur village d'origine.

Les campagnes des pays pauvres sont très diverses ; les conditions climatiques, les densités de population, les rendements ne sont pas les mêmes en Amazonie, en Afrique, en Chine... L'agriculture pratiquée est surtout vivrière. Le nombre de ruraux ne cesse d'augmenter : certains paysans partent alors pour la ville. On appelle cela l'exode rural.