



<b>Devoir Surveillé n°2</b>	<b>Date :</b> 14/01/2012
<b>Matière :</b> Economie Générale & Statistique	<b>Coefficient :</b> 6
<b>Branche :</b> Sciences Economiques et de Gestion	<b>Filière :</b> Sciences Economiques
<b>Professeur :</b> Larbi TAMNINE	<b>Durée :</b> 3 h

## DOSSIER I : Etat des marchés et évolution des indicateurs de comptabilité nationale (18 points)

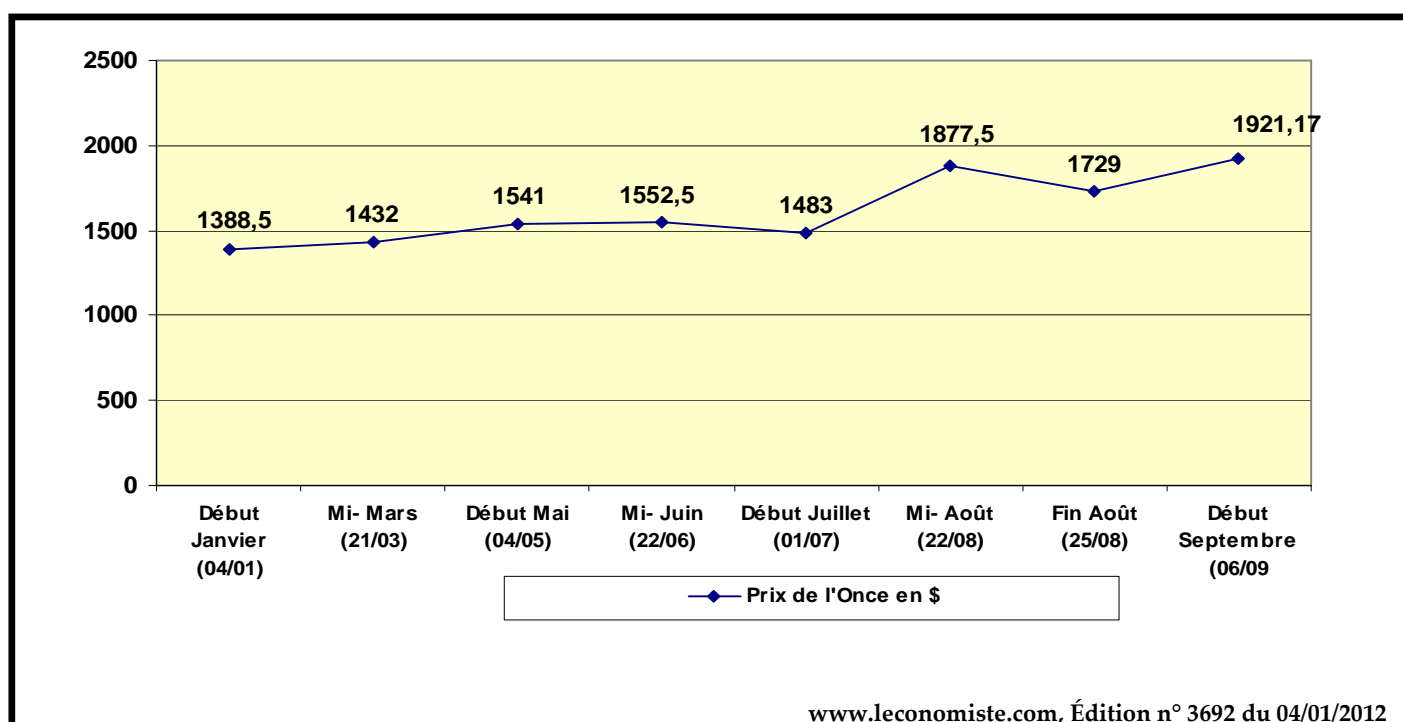
### DOCUMENT 1 : L'or, une valeur refuge ?

Qu'est-ce qui monte quand tout s'effondre ? Alors que les banques menacent de faire faillite, que les Etats sont soupçonnés de ne pas pouvoir rembourser leurs dettes, que les Bourses descendent aux enfers, l'or, lui, vole de record en record. Derrière cette frénésie, il y a l'explosion de la demande des investisseurs. La peur est leur principale conseillère. En ces temps troublés, les refuges traditionnels ne sont plus ce qu'ils étaient. Même les titres publics de la première économie mondiale ne sont plus réputés totalement sûrs. Les dépôts bancaires peuvent s'évaporer avec les banques. Les grandes monnaies n'inspirent plus confiance : le dollar se déprécie et on se demande si l'euro va passer l'hiver. Dans ces conditions, où mettre son argent à l'abri ? Reste le bon vieux lingot. Rare, tangible, indestructible, c'est la valeur refuge ultime. N'étant la dette de personne, il met à l'abri du risque de défaut. Il est aussi censé protéger les patrimoines contre la hausse des prix. Or de nombreux investisseurs voient dans l'inflation la seule issue à l'accumulation de dettes par les pays occidentaux, et l'effet inévitable, sinon l'objectif inavoué, de la création monétaire intensive de la banque centrale américaine.

(...) Les pays émergents ne sont pas en reste. Indiens et Chinois, depuis toujours grands amateurs de bijoux, recherchent désormais aussi l'or non plus seulement comme parure, mais aussi comme protection de leur patrimoine. Il faut dire que l'inflation chez eux n'est pas une menace, mais une réalité.

*Alternatives Economiques n° 306 - Octobre 2011*

### DOCUMENT 2 : Nouveau record de l'Or, principale valeur en temps de crise (2011)



**DOCUMENT 3 : Marché boursier : Un exercice 2011 particulièrement difficile... et à vite oublier**

L'année 2011 devait être l'année de consolidation de la reprise amorcée au cours de l'année 2010. Toutefois, cette année a connu plusieurs événements qui ont bouleversé le développement des économies mondiales. On peut citer à ce titre la crise de la dette de la zone euro, qui a plongé l'économie européenne dans la récession et qui a contraint les gouvernements à adopter des programmes d'austérité de grande envergure.

S'agissant des Etats-Unis, la première puissance mondiale a subi la loi des agences de notation en perdant son précieux «AAA» suite à l'appréciation de la dette qui a dépassé les 100% du PIB. D'autres pays, comme notamment la France, sont également sous le coup d'une dégradation de leur note souveraine.

Du côté de la place casablancaise, celle-ci a été marquée par un état d'attente du côté des investisseurs, qui ont montré peu d'intérêt pour le marché. Hormis l'annonce des résultats semestriels qui a été accompagnée par un mouvement d'achat, notamment sur les valeurs minières ayant réalisé des performances exceptionnelles, les différents intervenants sont restés peu réactifs. Le marché boursier affiche, en date du 27 décembre 2011, une contre-performance de 13,22% pour le Masi et 13,15 % pour le Madex. Globalement, le Masi opère dans un trend baissier depuis le début de l'année.



[www.financenews.press.ma](http://www.financenews.press.ma), Edition du 29/12/2011

**DOCUMENT 4 : Valeurs ajoutées aux prix de l'année précédente chaînés base 1998 (en millions de DH)**

	3 <sup>ème</sup> trimestre 2010	3 <sup>ème</sup> trimestre 2011	Variation
Secteur agricole	25 328	..... ?.....	4,1
Secteur non agricole	114 758	120 130	4,7
Impôts sur les produits nets de subventions	19 677	20 977	6,6
Produit Intérieur Brut en Volume	..... ?.....	167 247	..... ?.....
Produit Intérieur Brut en Valeur	190 285	200 053	5,1

Les Comptes nationaux du troisième trimestre 2011, [www.hcp.ma](http://www.hcp.ma)

**DOCUMENT 5 : Evolution de la structure du PIB à prix courants entre 2000 et 2010 (Maroc)**



Les comptes de la nation 2007 et 2010, [www.hcp.ma](http://www.hcp.ma)

**DOCUMENT 6 : Stratégie économique : les pistes de réflexion**

Le Maroc dispose-t-il d'une vraie stratégie de développement économique ? La réponse à cette épineuse question a fait l'objet du dernier rapport publié par le cercle d'analyse économique de la Fondation Abderrahim Bouabid. Si c'est le cas, la mise en œuvre de cette stratégie devrait lui permettre de devenir, en l'espace de 25-30 ans, un pays à revenu intermédiaire élevé, selon le rapport. En chiffres, c'est un PIB/habitant en termes nominaux d'environ 8 000 dollars, alors qu'actuellement, il est de 2 827 dollars/habitant. Pour atteindre cet objectif, il faut passer à un palier de croissance économique très nettement supérieur d'environ 8% par an, recommandent les auteurs du rapport.

Le rapport soulève également que la volatilité de la croissance marocaine demeure sensiblement plus forte que celle de ses voisins du fait de l'impact de la pluviométrie agricole, même si elle semble s'atténuer quelque peu au cours de ces dernières années. Après ce constat d'échec des politiques publiques pour accélérer la croissance économique, les auteurs du rapport sont partis à la recherche d'autres indicateurs confirmant l'existence d'une stratégie de développement économique. Parmi eux, on retient celui du niveau des investissements directs étrangers (IDE) qui s'est sensiblement amélioré durant ces dernières années. Mais pour les membres du cercle d'analyse, cette performance n'est pas forcément due aux effets d'une politique de développement économique réussie. «Les flux d'IDE sont fortement dépendants de la conjoncture économique mondiale», explique le rapport. Toujours dans le même sens, le rapport confirme l'absence de stratégie économique performante par la faiblesse de la productivité, le déficit alarmant de la balance commerciale et la régression du Maroc dans la plupart des classements internationaux. Il relève aussi la fragilité de la stratégie adoptée, fondée sur le dynamisme du triptyque «tourisme-immobilier-infrastructures».....

[www.leconomiste.com](http://www.leconomiste.com), Edition 3322 du 19/07/2010

**TRAVAIL A FAIRE :**

1) En vous référant aux documents 1 et 3, **Identifiez** les types de marché selon l'objet et **caractériser**-les à travers leurs composantes (Reproduisez et complétez le tableau suivant) (3 pts)

	Document 1	Document 3
Type selon l'objet	.....	.....
Bien échangé	.....	.....
Offre	.....	.....
Demande	.....	.....
Prix	.....	.....
Déséquilibre constaté	.....	.....

2) Expliquez le titre du document 2 en vous aidant du document 1. (1,5 pts)

3) Expliquez l'évolution de la demande mondiale de l'or (document 1). (2 pts)

4) A partir du document 2 :

a) Calculez l'indice élémentaire du prix de l'Once de l'or au 06 Septembre (base 100 le 04 Janvier 2011) ; (1 pt)  
(Un seul chiffre après la virgule)

b) Interprétez le résultat obtenu. (1 pt)

5) En vous référant au document 4 :

a) Complétez le tableau ; (1,5 pts)

b) Faites une phrase avec le chiffre souligné ; (1 pt)

c) Expliquez la croissance du PIB en Volume au 3<sup>ème</sup> trimestre 2011; (1,5 pt)

d) Expliquez la différence entre le taux de croissance économique en valeur et en volume. (1,5 pt)

6) En vous référant au document 5 :

a) Lisez le chiffre encadré ; (1 pt)

b) Interprétez l'évolution de la structure du PIB entre 2000 et 2010. (1,5 pts)

7) **Relevez** puis **commentez**, les freins de la croissance économique au Maroc. (Document 6) (1,5 pts)

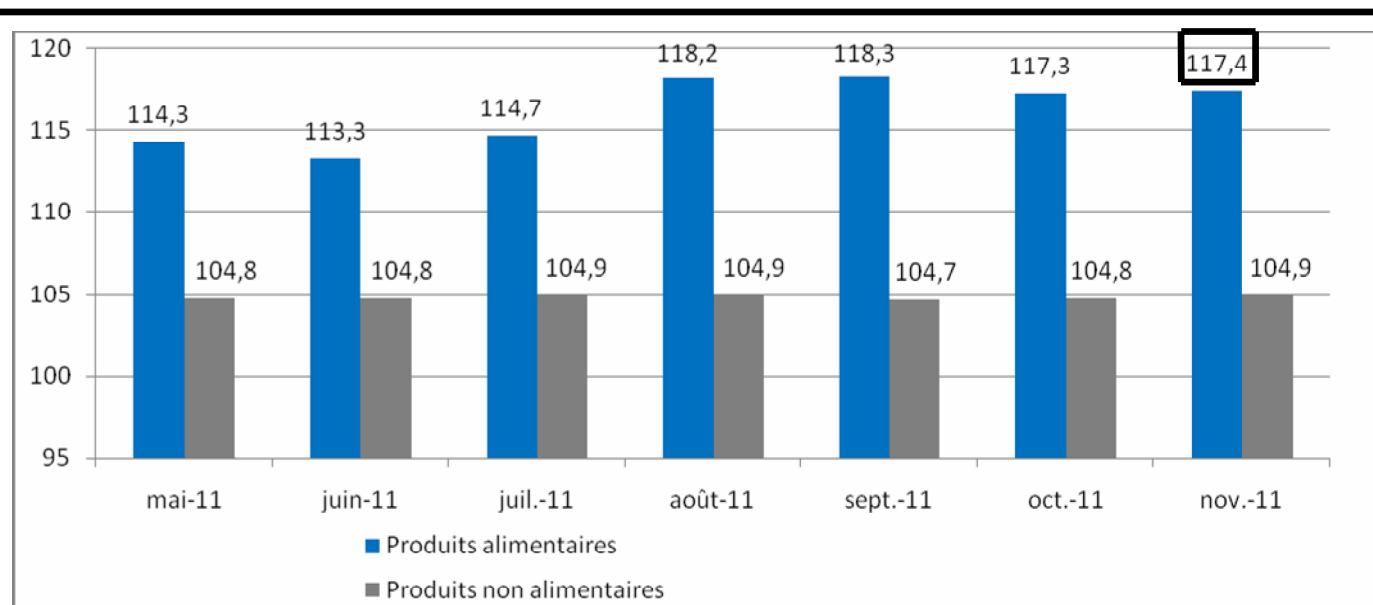
**DOSSIER II : Inflation et chômage : un couple infernal (20 points)**

**DOCUMENT 7 : L'inflation plafonnerait à 2 %**

En rapport avec le contexte international marqué par un renchérissement très prononcé des cours de l'ensemble des matières premières, avec une mention pour la hausse des prix des céréales et du pétrole, la perspective d'une reprise des tensions inflationnistes n'est plus à occulter. Après s'être quelque peu atténués, les signes avant-coureurs de pression sur les prix commencent à se profiler à l'horizon. Devant marquer une nette rupture par rapport aux tendances passées, cette évolution de l'inflation affecterait les charges de production. Observé un peu partout dans le monde, le redressement des prix pourrait avoir des répercussions sur l'indice des prix à la production et, par ricochet, sur celui de la consommation au Maroc. Des tensions pèseraient sur les unités productives nationales, notamment à travers les risques que ces dernières courent à court et moyen terme en matière d'approvisionnement (risque de pénurie, explosion des prix). Se pose alors la question de déterminer les répercussions de cette vague inflationniste sur le pouvoir d'achat, sur les niveaux de vie et sur l'ensemble des équilibres économiques et sociaux du pays. C'est que l'accalmie est de plus en plus encline à céder la place à un renchérissement des prix.

[www.lematin.ma](http://www.lematin.ma) du 22/09/2011

**DOCUMENT 8 : Evolution mensuelle de l'IPC -2011**



Division des Indices Statistiques, [www.hcp.ma](http://www.hcp.ma)

**DOCUMENT 9 :**

Le tableau suivant fournit les prix et les quantités consommées de deux biens : fruits et légumes en 2008 et 2011 par un ménage.

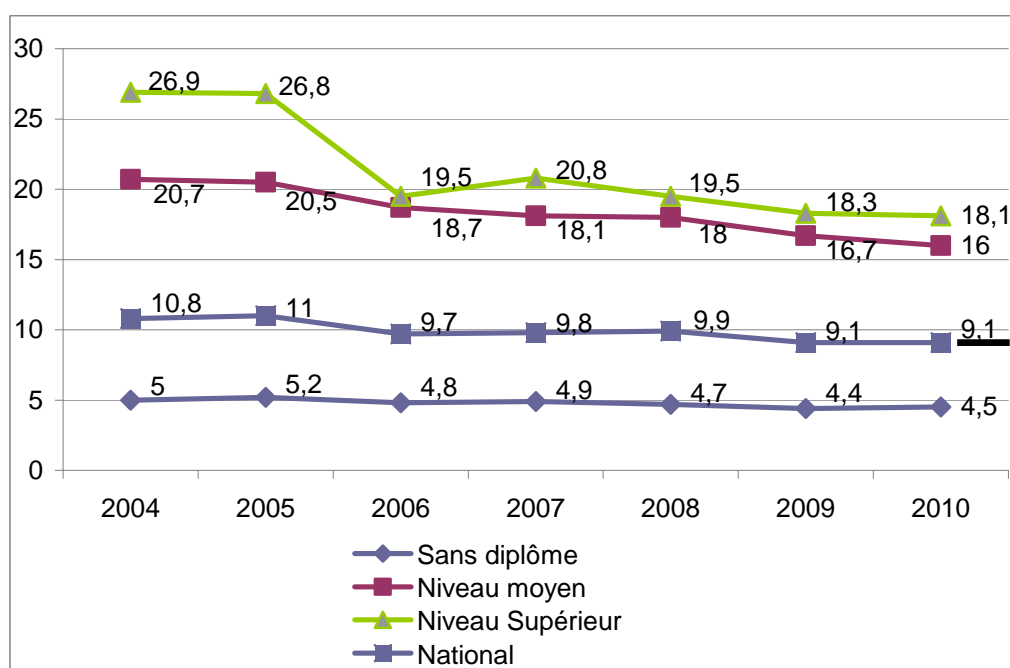
	2008 (année de base)		2011		Indice Laspeyres- Prix
	Quantité en kg	Prix en DH	Quantité en kg	Prix en DH	
Fruits	180	..... ?.....	220	8,5	
Légumes	410	4,5	380	6	
					<b>115,15</b>

**DOCUMENT 10 : Efficience : 4,8% de hausse pour le PIB contre 1,7% pour l'emploi**

La croissance au Maroc, malgré le doublement de son niveau, en passant d'une moyenne de 2,2% dans les années 90 à 4,8% dans les années 2000, ne s'est pas traduite, dans les mêmes proportions, dans le domaine de l'emploi. Les créations d'emplois n'ont en effet augmenté que de 1,7% en moyenne annuelle. Cela renvoie sans doute aux structures de l'économie, encore fortement dominées par des activités de faible qualification, comme l'agriculture, le BTP et certains services (tourisme, restauration, transport, etc).

(...) C'est que, face à ce changement générationnel, l'économie, elle, est restée sur ses vieilles structures. L'offre d'emploi paraît ainsi en déphasage par rapport à l'offre de travail ; et ce déphasage ne porte pas que sur le volume de l'emploi créé, toujours insuffisant, mais aussi, et peut-être surtout, sur la nature de cet emploi. Ainsi, le Maroc a créé en moyenne 156 000 emplois par an au cours de la dernière décennie (2000-2010). Cela reste insuffisant au regard de la transition démographique que traverse le pays (réduction de la part des moins de 15 ans et gonflement de la part de la population en âge de travailler et qui va de 15 à 59 ans). Et la problématique se complique encore avec la transition culturelle (aspiration plus forte au bien-être et développement du consumérisme) qui découle ou accompagne la transition démographique.

[www.lavieeco.com](http://www.lavieeco.com), Edition du 25/05/2011 et 27/09/2011

**DOCUMENT 11: Taux de chômage national (annuel) selon le diplôme au Maroc**

Graphique élaboré à partir des données du hcp, [www.hcp.ma](http://www.hcp.ma)

**TRAVAIL A FAIRE :**

- 8) En Vous référant à l'annexe : (page 7)
- a) Déterminez la quantité d'équilibre (optimale) sachant que le prix fixé par le marché est de 5 000 DH ; (1,5 pts)
  - b) Tracez la zone du profit maximum sachant que le coût moyen est de 3 500 DH ; (1,5 pts)
  - c) Calculez le profit maximum de cette entreprise. (1,5 pts)
- 9) En vous référant au document 7, déduire :
- a) une cause de l'inflation ; (0,5 pt)
  - b) deux conséquences de l'inflation. (1,5 pts)
- 10) A partir du document 8 :
- a) Faites une phrase avec le chiffre entouré ; (0,5 pt)
  - b) Sachant que les coefficients budgétaires des produits alimentaires et non alimentaires sont respectivement de 41,6 et 58,4 ; calculez le taux d'inflation pour le mois de Novembre 2011 ; (1,5 pts)
  - c) Interprétez le résultat obtenu. (1 pt)
- 11) En utilisant les données du document 9 :
- a) Calculez le prix des fruits en 2008 ; (1,5 pts)
  - b) Interprétez le chiffre souligné. (1 pt)
- 12) En vous aidant du document 10, expliquez pourquoi la croissance économique au Maroc est peu créatrice d'emplois ? (1,5 pts)
- 13) Relevez du document 10, deux causes du chômage au Maroc ; (1,5 pts)
- 14) A partir du document document 11 ;
- a) Lisez le pourcentage souligné ; (0,5 pt)
  - c) Interprétez le taux de chômage selon le diplôme en 2010 ; (1,5 pts)
- 15) « Comment peut-on résoudre la problématique du chômage des diplômés au Maroc » ? (3 pts)
- Présentez votre réponse dans moins de 10 lignes.

**Important :**

- 2 points sont réservés à la présentation de la copie, évitez les ratures et les surcharges et mentionnez le numéro de dossier puis de la question.
- La machine à calculer non programmable est autorisée.
- Les calculs justificatifs doivent figurer sur la copie.
- L'épreuve est notée sur 40.

**ANNEXE : (A rendre avec la copie)**

L'Entreprise « FES-BUREAU » est une entreprise spécialisée dans l'équipement des bureaux pour entreprise. Elle a mis sur le marché depuis plus de 2 ans un modèle de bureau à base du bois et du Fer. Etant donné que la concurrence à la fois des nationaux et des étrangers est forte sur ce segment du marché; elle n'arrive pas à rentabiliser son investissement ! Son contrôleur de gestion vous consulte pour certains conseils. Le Marché est donc supposé en situation de concurrence pure et parfaite.

