

Nom :
 Prénom :
 N° d'examen :
 Classe :
 N° d'ordre :

Royaume du Maroc
 Délégation de Tinghir
 Collège Zaouite Elbir
 Session Janvier 2013

Note :

/20

Partie I : Typologie des réseaux (8 points)

A. Répondez par Vrai ou Faux:

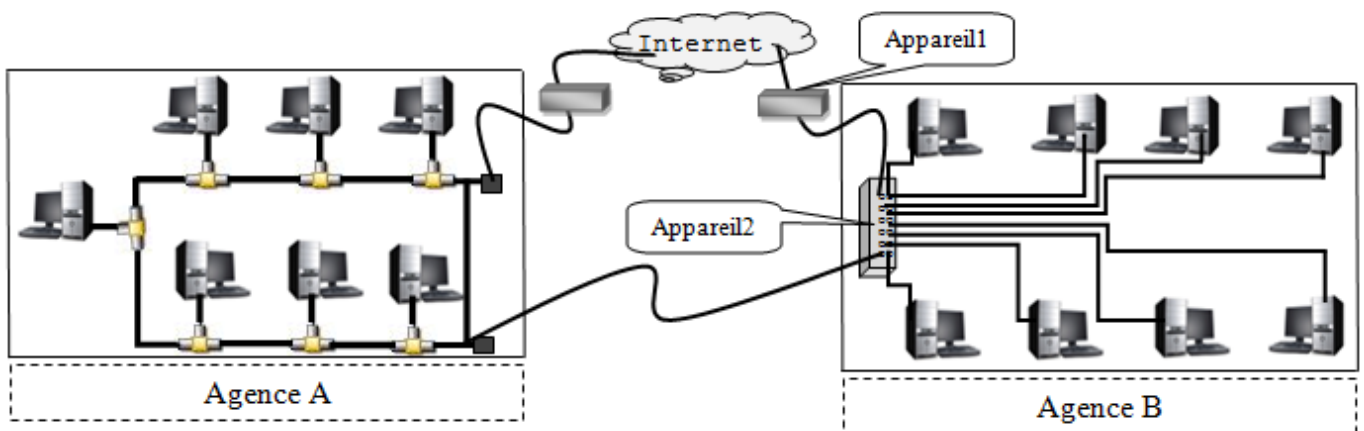
(2 pts)

- ✓ Un réseau WAN se situe dans une zone géographique relativement restreinte.....
- ✓ La façon de disposition géométrique des ordinateurs s'appelle la topologie.....
- ✓ Le réseau Internet est un réseau WLAN.....
- ✓ Le terme MAN est l'abréviation de Middle Area Network

B. Problème:

(6 pts)

Deux agences d'une entreprise appartenant à une même ville (agence A, agence B) ont relié leurs propres réseaux entre eux afin d'échanger des données. Les deux agences sont connectées au réseau Internet (Voir la figure).



1) Donnez la typologie des réseaux réalisés dans la figure ci-dessus : (2 pts)
 « Internet », « Réseau de l'agence A », « Réseau de l'agence B » et « Réseau de (agence A + agence B) »

2) Déterminez la topologie du réseau de l'agence A et celle de l'agence B : (2 pts)

- Topologie de l'agence A :
- Topologie de l'agence B :

3) Donnez le nom de l'appareil1 et le nom de l'appareil2: (2 pts)





- Appareil 1 :
- Appareil 2 :

Partie II : PréAO (12 points)

A l'occasion de la fête de l'indépendance et dans le cadre des activités parascolaires, vous avez décidé de préparer un exposé qui présente l'histoire du Maroc.

- 1) Parmi les logiciels suivants, le quel vous sera utile ? (1 pt)
- MS Excel
 Logo.Net
 MS Power Point

- 2) Reliez chaque bouton avec sa fonction. (2 pts)

	Insérer un tableau	
	Insérer du son	
	Insérer un graphique	
	Insérer une image	

- 3) Compléter le tableau suivant. (3pts)

Raccourcis clavier	Résultats
	Afficher le mode diaporama dès la première diapositive
Echap	
	Ajouter une nouvelle diapositive

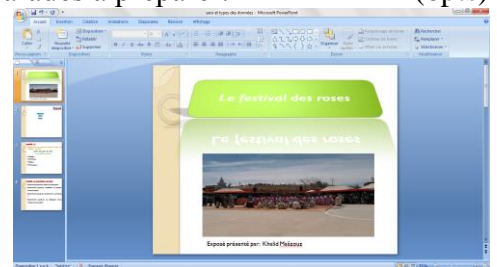
- 4) Soient les deux modes d'affichages d'un exposé que l'un de vos camarades à préparer. (6pts)

- a) Quels sont les modes d'affichage dans les deux images ?
 Mode1 : Mode2 :
- b) Il existe un autre mode d'affichage. Le quel ?

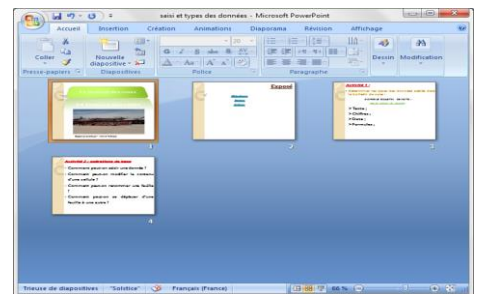
- c) De combien de diapositives est constituée cette présentation ?

- d) Citer 4 objets que vous pouvez insérer dans votre présentation.

- e) Choisissez la bonne réponse.
 Pour réussir votre exposé, vous pouvez utiliser :
 un vidéoprojecteur un tableau un rétroprojecteur



Mode 1



Mode 2