

Écris le numéro de chaque voiture de course.



vingt



vingt-sept



vingt-et-un



dix-neuf



trente



trente-deux



seize



quatorze

Écris en lettres.

35 ..*trente-cinq*..

17

25

11

12

38

Écris le numéro de chaque voiture de course.



vingt



vingt-sept



vingt-et-un



dix-neuf



trente



trente-deux



seize



quatorze

Écris en lettres.

35 ..*trente-cinq*..

17

25

11

12

38

Écris tous les nombres que tu peux obtenir
avec deux étiquettes.

dix huit vingt

18

dix-huit

28

vingt quatre trente

.....

.....

neuf trente cinq dix

.....

.....

.....

vingt sept quinze dix deux

.....

.....

.....

Écris tous les nombres que tu peux obtenir
avec deux étiquettes.

dix huit vingt

18

dix-huit

28

vingt quatre trente

.....

.....

neuf trente cinq dix

.....

.....

.....

vingt sept quinze dix deux

.....

.....

.....



Relis les deux écritures du même nombre

cinquante-quatre

40 + 9

quarante-neuf

51

cinquante

10 + 10 + 10 + 10 + 7

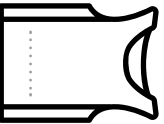
cinquante-et-un

20 + 20 + 10

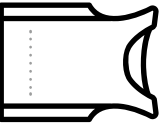
quarante-sept

50 + 4


Écris le numéro sur chaque maillot.




cinquante-huit




cinquante-deux



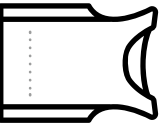
quarante-trois



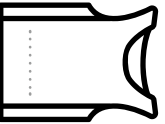
quarante



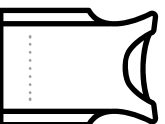
cinquante



quarante-et-un



cinquante-cinq



quarante-six

Relis les deux écritures du même nombre

cinquante-quatre

40 + 9

quarante-neuf

51

cinquante

10 + 10 + 10 + 10 + 7


cinquante-et-un

20 + 20 + 10


quarante-sept

50 + 4


Écris le numéro sur chaque maillot.




cinquante-huit




cinquante-deux



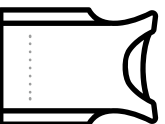
quarante-trois



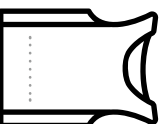
quarante



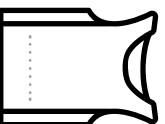
cinquante



quarante-et-un



cinquante-cinq



quarante-six

Écris le plus grand nombre que tu peux obtenir
avec les étiquettes.

dix huit

vingt onze

vingt-huit

28

trente

six

neuf

trente douze

quatre

deux

quarante

.....

.....

quarante

et

un

treize

cinquante

.....

vingt

quinze

quarante

seize

trente

zéro

.....

dix

cinq

cinquante

sept

trois

.....

Écris le plus grand nombre que tu peux obtenir
avec les étiquettes.

dix huit

vingt onze

vingt-huit

28

trente

six

neuf

trente douze

quatre

deux

quarante

.....

.....

quarante

et

un

treize

cinquante

.....

vingt

quinze

quarante

seize

trente

zéro

.....

dix

cinq

cinquante

sept

trois

.....